



# DINERO







EL DINERO SIRVE PARA COMPRAR LO QUE NECESITEMOS O QUERAMOS.





## LO QUE SE PUEDE COMPRAR



OBJETOS



CASAS



COMIDA



ENTRADAS



## LO QUE NO SE PUEDE COMPRAR



AMIGOS



AMOR



# Ejercicio: Tacha lo que se pueda comprar



Jersey

☐

Gafas

☐

Perro

☐

Abrazo

☐

Correa

☐

# Ejercicio: Tacha lo que se puede comprar



Cuerda

☐

Pelota

☐

colchoneta

☐

zapatillas

☐

Silbato

☐

# EL DINERO SE GANA TRABAJANDO O PRESTANDO UN SERVICIO




El peluquero recibirá  
dinero por el servicio  
realizado.



El cliente dará dinero  
por el servicio recibido.



Ejercicio: Redondea de **azul** quién recibirá dinero.  
Redondea de **naranja** quién dará dinero.







# EL EURO

Es la moneda de la UNIÓN EUROPEA



# Ejercicio: Colorea los países donde se utilice el EURO





# ESTE ES EL DINERO QUE UTILIZAMOS

## Las MONEDAS de Euro:

### CÉNTIMOS



1 céntimo



2 céntimos



5 céntimos



10 céntimos



20 céntimos



50 céntimos

### EUROS



1 euro



2 euros



1 EURO = 100 centimos

## Los BILLETES de Euro:



5 euros



10 euros



20 euros



50 euros



100 euros



200 euros



500 euros


# ALGUNAS FORMAS DE AGRUPAR 1 EURO



1 EURO = 100 *céntimos*



Ejercicio: Guarda las monedas de euro en el monedero y los billetes en la billetera.




MONEDERO



BILLETERA

# Ejercicio: ¿Son céntimos o Euros?

☐

Céntimo

☐

Euro

☐

Céntimo

☐

Euro

☐

Céntimo

☐

Euro

☐

Céntimo

☐

Euro

☐

Céntimo

☐

Euro

☐

Céntimo

☐

Euro

☐

Céntimo

☐

Euro

☐

Céntimo

☐

Euro

☐

Céntimo

☐

Euro

☐

Céntimo

☐

Euro

☐

Céntimo

☐

Euro


☐


Céntimo

☐

Euro

# Ejercicio: Agrupa los céntimos hasta conseguir 1 EURO





PARA ESCRIBIR EL DINERO SEPARAMOS LOS EUROS Y LOS CÉNTIMOS:



=

2 , 10 € = 2 euros y 10 céntimos


euros      Céntimos

↓                      ↓

Separamos      Símbolo



# Ejercicio: ¿Cuánto dinero hay? Une.



● 0,50 €



● 5,00 €



● 0,05 €




● 1,50 €



● 10,00 €

# Ejercicio: ¿Cuánto dinero hay? Une.



● 0,30 €



● 30,00 €



● 0,55 €



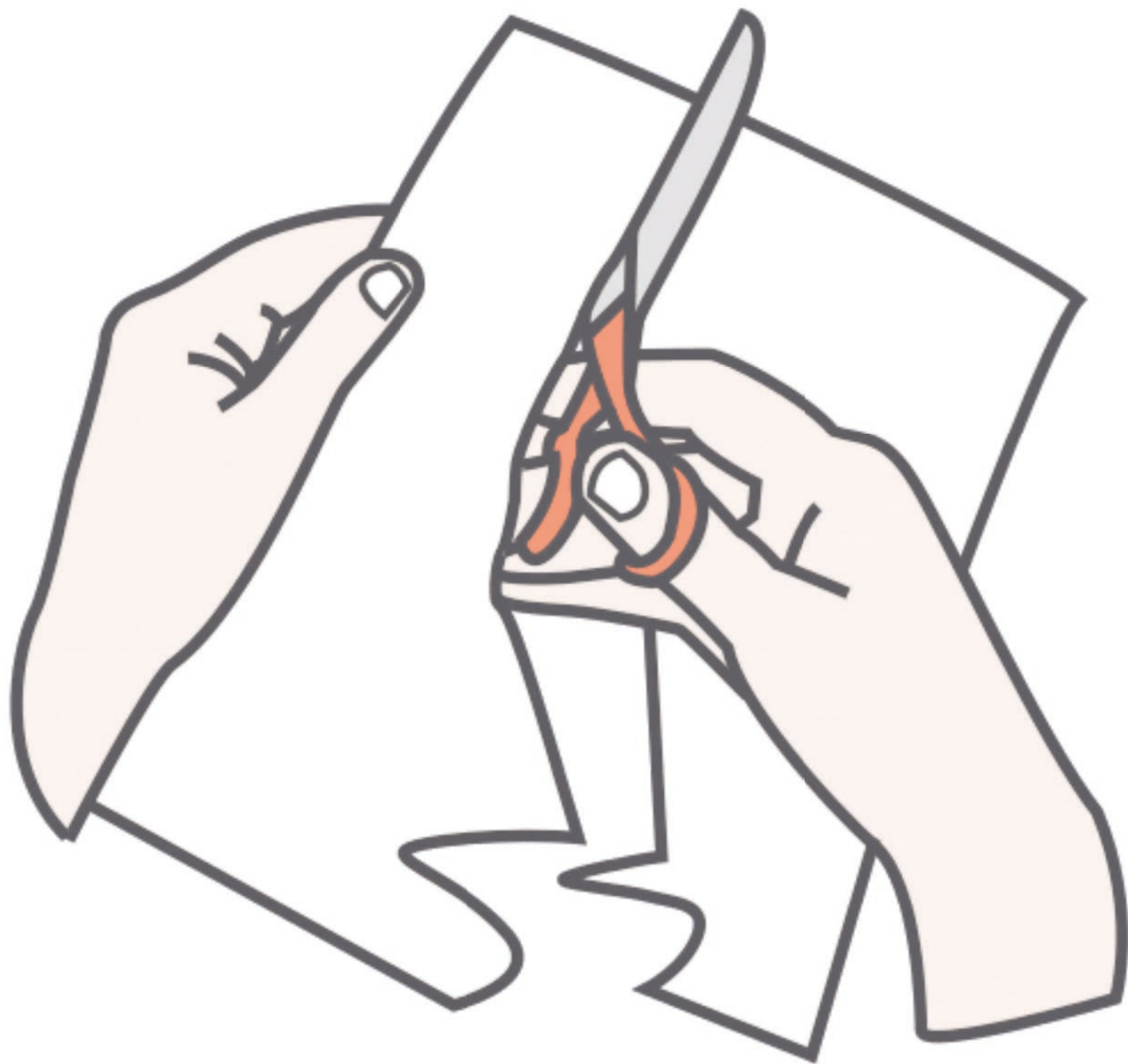
● 3,00 €



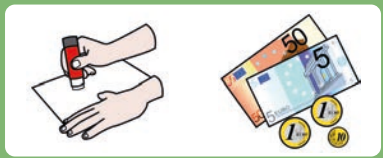
● 6,50 €

# Ejercicio: ¿Cuánto dinero tiene? Córtalo.





Ejercicio: ¿Cuánto dinero tiene? Pégalo.



# Ejercicio: ¿Cuánto dinero tiene?



\_\_ , \_\_ €



\_\_ , \_\_ €



\_\_ , \_\_ €



\_\_ , \_\_ €




\_\_ , \_\_ €



\_\_ , \_\_ €





PARA PODER COMPRAR ALGO SE NECESITA IGUAL O MÁS CANTIDAD DE DINERO



puede comprarlo



puede comprarlo



No puede comprarlo


Ejercicio: Compra los juguetes que cuesten menos de 5 EUROS.






Ane tiene 5,00€



# Ejercicio: ¿Puedo comprarlo?




TENGO



PRECIO



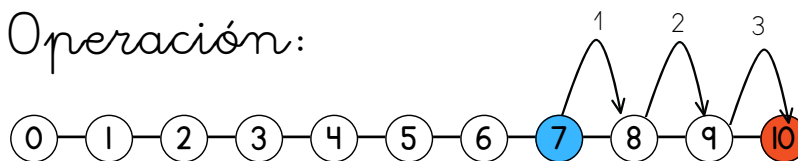
¿PUEDO COMPRARLO? SI O NO



SI DOY MÁS DINERO AL CAJERO, EL TENDRÁ QUE DEVOLVERME DINERO:



Operación:



le devolverán: 3€

Teo le da 10 euros al cajero.

La revista cuesta 7 euros.

# Ejercicio: ¿Cuánto dinero le devolverán?



Operación:

0—1—2—3—4—5—6—7—8—9—10

le devolverán:



Operación:

0—1—2—3—4—5—6—7—8—9—10

le devolverán:



Operación:

0—1—2—3—4—5—6—7—8—9—10

le devolverán:



Operación:

0—1—2—3—4—5—6—7—8—9—10

le devolverán:

